



T.C.
MİLLÎ EĞİTİM BAKANLIĞI
ÖLÇME, DEĞERLENDİRME VE SINAV HİZMETLERİ GENEL MÜDÜRLÜĞÜ

SINAVLA ÖĞRENCİ ALACAK ORTAÖĞRETİM
KURUMLARINA İLİŞKİN MERKEZİ SINAV

SÖZEL BÖLÜM
2020

A
KİTAPÇIK TÜRÜ

Adı ve Soyadı :
Sınıfı / Şubesi :
Öğrenci Numarası :

DERS ADI	SORU SAYISI	TOPLAM SORU SAYISI	SINAV SÜRESİ (DAKİKA)
TÜRKÇE	20	50	75
T.C. İNKILAP TARİHİ VE ATATÜRKÇÜLÜK	10		
DİN KÜLTÜRÜ VE AHLAK BİLGİSİ	10		
YABANCI DİL (İNGİLİZCE)	10		

20 HAZİRAN 2020

Saat : 09.30

ÖĞRENCİLERİN DİKKATİNE!

1. Sınıf öğrenci yoklama listesinde belirtilen sınıfta ve sıra numarasında oturunuz.
2. Cevap kâğıdındaki kimlik bilgilerinin doğruluğunu kontrol ediniz. Bilgiler size ait değilse veya cevap kâğıdı kullanılmayacak durumdaysa sınav görevlilerine bildirin.
3. Kitapçık türünü cevap kâğıdındaki ilgili alana kodlayınız.
4. Cevap kâğıdı üzerindeki kodlamaları kurşun kalemle yapınız.

SINAV BAŞLAMADAN ÖNCE
KİTAPÇIĞIN ARKA KAPAĞINDAKİ
UYARILARI MUTLAKA OKUYUNUZ.



2020 SÖZEL BÖLÜM

SINAVLA ÖĞRENCİ ALACAK ORTAÖĞRETİM KURUMLARINA İLİŞKİN MERKEZİ SINAV

TÜRKÇE

1. Bu testte 20 soru vardır.
2. Cevaplarınızı, cevap kâğıdına işaretleyiniz.

1. Yazar, çocukluk ve ilk gençlik yıllarını yoksulluk içinde geçirmesine rağmen azim ve I iradesi sayesinde her türlü engeli aşmak suretiyle Türk ilim ve kültür hayatının kendi- II siyle daima iftihar ettiği örnek bir ilim insanı III olmuştur.

Bu cümledeki numaralanmış sözcüklerin anlamca karşılıkları aşağıdakilerin hangisinde verilmiştir?

I	II	III
A) direnme gücü	amacıyla	gururlanmak
B) kararlılık	yoluyla	kıvanç duymak
C) gayret	isteğiyle	saygı göstermek
D) cesaret	şartıyla	iltifat etmek

2. (I) Bizim memlekette dağ taş, orman ağaç hayatın hikâyesini anlatır. (II) Toprak burada ustanın elinden çıkmış bir çinidir, desen desen. (III) Toprak verimlidir; kuru çubuk diksen meyve verir, salkım salkım. (IV) Portakallar dallarında birer güneştir, turuncu turuncu.

Bu metinde numaralanmış cümlelerin hangilerinde aynı söz sanatı kullanılmıştır?

- | | |
|--------------|-------------|
| A) I ve III | B) I ve IV |
| C) II ve III | D) II ve IV |

3. Bir sanatçıya, gazetecilerle yaptığı sohbet sırasında gazetecinin biri "Efendim, uzun süredir yeni bir eser vermiyorsunuz. Yoksa düşüncelerinizin üzerine kar mı yağdı?" diye sordu. Bunun üzerine sanatçı "Kışın yağın kar, toprağı örterek bitkileri şiddetli soğuktan korur. Toprağın altındaki bitki ve hayvanlar ilkbahara hazırlanır. Karlar eridiğinde tüm canlılıklarıyla hayatlarına devam eder. Evet, benim düşüncelerimin üzerine kar yağdı." şeklinde cevap verdi.

Bu metinde sanatçının "Evet, benim düşüncelerimin üzerine kar yağdı." sözüyle anlatmak istediği aşağıdakilerden hangisidir?

- A) Sanatçılar ürettikçe var olur, bu yüzden her zaman ortaya koyacakları bir eserleri olmalıdır.
- B) Eser üretmekte zorlanan sanatçılar, sanat güçlerini gittikçe kaybederler.
- C) Sanatçılar verimsiz bir dönemde gibi görünseler de yeni eserleri için zihinlerinde hazırlık yaparlar.
- D) Düşünce kısırlığı çeken sanatçılar, düşüncelerini zenginleştirmek için çok iyi gözlem yapmalıdır.

4. • Kartepe Kayak Merkezi, yüksekliği 1606 metre olan bir tepenin zirvesinin altında kurulmuştur.
• Kartepe Kayak Merkezi kış aylarında yoğun bir ziyaretçi akınına uğruyor.

Bu iki cümlelin anlamca doğru bir biçimde birleştirilmiş hâli aşağıdakilerden hangisidir?

- A) Kartepe Kayak Merkezi yoğun ziyaretçi akınına uğrayan, yüksekliği 1606 metre olan bir tepenin zirvesinin altında kış aylarında kurulmuştur.
B) Yoğun bir ziyaretçi akınına uğrayan Kartepe Kayak Merkezi, kış aylarında yüksekliği 1606 metre olan bir tepenin zirvesinin altında kurulmuştur.
C) Yüksekliği 1606 metre olan bir tepenin zirvesinin altında kurulan Kartepe Kayak Merkezi, kış aylarında yoğun bir ziyaretçi akınına uğruyor.
D) Bir tepenin zirvesinin altında kurulan Kartepe Kayak Merkezi, yüksekliği 1606 metre olduğundan kış aylarında yoğun bir ziyaretçi akınına uğruyor.

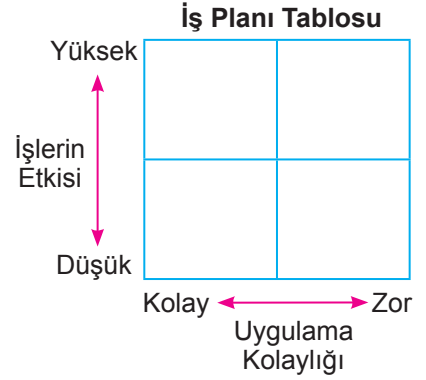
5. Bir projenin başarıya ulaşmasında birçok etken vardır. En başta proje kapsamında çalışacak her bir elemanın, yapacağı işle ilgili üst düzey bilgi birikimine sahip olması gerekir. Bu, çıkacak sorunların hızla çözülmesinde ve projenin sorunsuz ilerlemesinde önemli bir etkidir. Proje çalışanlarının birbiriyle uyumlu ve eş zamanlı çalışması da projenin sağlıklı yürümesi için çok önemlidir. Bunlarla birlikte maliyete ve takvime uygun bir çalışmanın yapılması da gerekir.

Aşağıdakilerden hangisi bir projede çalışacak kişilerin bu metinde verilen özelliklerinden değildir?

- A) Liderlik edebilme
B) Planlı çalışabilme
C) Ekip çalışması yapabilme
D) Alanında uzman olma

6. Sudenaz Hanım şirkette hafta boyunca yapacağı planlama, denetleme, personel alımı ve raporlama işleri için şekildeki gibi bir tablo hazırlamıştır. Yapacağı işleri tabloya yerleştirirken işlerin etki derecesini ve uygulama kolaylığını göz önünde bulundurmıştır. Bunları da şu şekilde belirlemiştir:

- Planlama: Uygulanması zor ve etkisi yüksek
- Raporlama: Uygulanması zor ve etkisi düşük
- Personel alımı: Uygulanması kolay ve etkisi yüksek
- Denetleme: Uygulanması kolay ve etkisi düşük



Sudenaz Hanım'ın bir hafta içinde yapacağı işler şunlardır:

- Şirketin son üç aylık durumunu ortaya koymak amacıyla üretim-satış verilerine ilişkin grafik ve tablolar hazırlamak
- Aksaklık olup olmadığını görmek amacıyla fabrikadaki işleyişi kontrol etmek
- Hangi işin, ne zaman yapılacağına dair bir çizelge hazırlamak
- Şirketin ihtiyacı doğrultusunda, iş başvurusunda bulunan adayların öz geçmiş formlarını incelemek

Bu bilgilere göre Sudenaz Hanım'ın yaptığı İş Planı Tablosu aşağıdakilerden hangisidir?

A)

IV	III
II	I

B)

I	IV
III	II

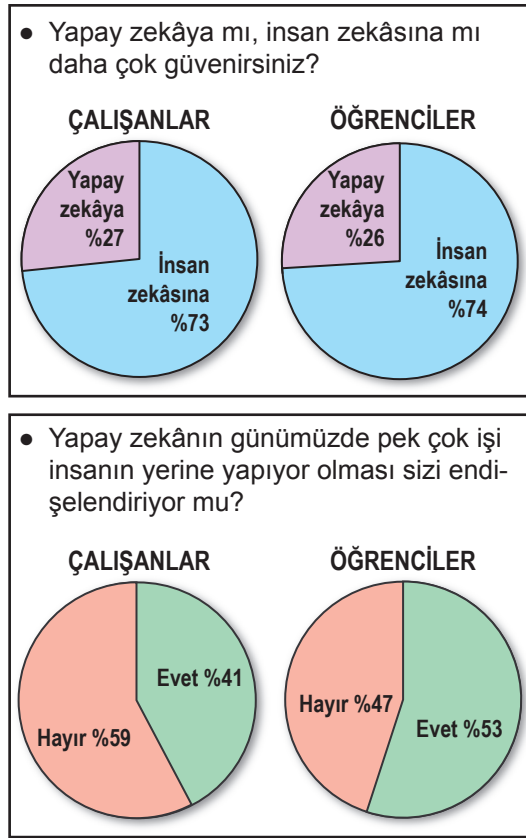
C)

I	III
II	IV

D)

IV	II
III	I

7. Yapılan bir ankette, sorulara verilen cevapların yüzdesi grafiklerde gösterilmiştir.



Aşağıdakilerden hangisi bu grafiklerin raporlaştırılmış hâlidir?

- A) Araştırma sonucuna göre çalışanlar yapay zekâya öğrencilerden çok güvenmektedir. Çalışanlar öğrencilere göre yapay zekânın, işleri insanın yerine yapmasından daha çok endişe duymaktadır.
- B) Yapılan araştırmaya göre insan zekâsına, çalışanlar öğrencilerden daha çok güvenmektedir. İşleri insanın yerine yapay zekânın yapıyor olmasında ise öğrenciler çalışanlardan daha endişelidir.
- C) Araştırma sonuçlarına bakıldığında hem çalışanların hem de öğrencilerin yapay zekâya insan zekâsından çok güvendiği görülür. Ancak iki grup arasındaki en büyük fark, işleri insanın yerine yapay zekânın yapmasından öğrencilerin daha çok endişe duymasındır.
- D) Öğrenci ve çalışanlarla yapılan bir araştırmanın sonucu her iki kitlenin de insan zekâsına daha çok güvendiğini ortaya koymuştur. Yapay zekânın insanların işini yapmasından duyulan endişenin öğrencilerde daha yüksek olduğu görülmüştür.

8. I. Çünkü bu tepelere değil yükü tırmanmak, yürüyerek çıkmak bile çok ağır bir spor gibi.
 II. Her birimizin taşınması gereken yük altı yedi kilo var.
 III. Oduncular, köküne zarar vermeyecek şekilde meşeleri kesiyor ve kızağa yüklüyorlar.
 IV. Onlar taşınacak ipleri, baltaları ve diğer malzemeleri hazırlamış; bizi bekliyorlar.
 V. Bu ağırlığın ne demek olduğunu dağa tırmandıkça daha iyi anlıyorum.
 VI. Dağdan odun indirecek odun ekibiyle buluşmak için sabah erkenden köyün meydanına geldik.

Numaralanmış cümlelerle anlamlı bir metin oluşturulduğunda hangisi dışarıda kalır?

- A) II B) III C) IV D) V

9. Sosyal medyanın gündelik hayata etkisi nasıldır?

Aşağıdaki metinlerden hangisi bu soruya verilmiş bir yanıt olamaz?

- A) Asılsız haber ve içerikler sosyal medya yoluyla bilinçli veya bilinçsizce daha fazla ve hızla yayılıyor. Geleneksel medyanın da bunları kaynak almasıyla geniş toplum kitleleri yalan haberlere maruz kalıyor.
 B) Bugün dilimiz yerine parmaklarımız konuşuyor. Eskiden komşu evlerinde yapılan sohbetler şimdi sosyal medya gruplarına taşındı. Aynı evin içinde bile telefonla haberleşir oldu insanlar.
 C) Kullanıcı eğilimleri sosyal medya yazılımlarının güncellenmesine sebep oluyor. Yazılımcılar her geçen gün yeni uygulamalar geliştiriyor. Bu da sosyal medya şirketleri arasında büyük bir rekabet doğuruyor.
 D) Sosyal medya uygulamaları sayesinde gözden uzak olan artık gönülden uzak olmuyor. Araya ne kadar mesafe girerse girsin -isterseniz dünyanın öbür ucuna gidin- fotoğraflarınızı, videolarınızı sevdiğinizlerle paylaşabilir hatta onlara canlı yayın yapabilirsiniz.

10. Türkiye’de taşıt plaka kodları, 27 Eylül 1962 tarihinde yayımlanan yönetmelikle düzenlenmiştir. Bu tarihte il niteliğinde bulunan 67 şehre alfabetik sıraya göre taşıt plaka kodları verilmiştir. Bu tarihten sonra farklı zamanlarda il olan şehirlere de taşıt plaka kodu verilmiştir.

İLLERİN PLAKA KODLARI TABLOSU								
01 Adana	11 Bilecik	21 Diyarbakır	31 Hatay	41 Kocaeli	51 Niğde	61 Trabzon	71 Kırıkkale	81 Düzce
02 Adıyaman	12 Bingöl	22 Edirne	32 Isparta	42 Konya	52 Ordu	62 Tunceli	72 Batman	
03 Afyon	13 Bitlis	23 Elazığ	33 İçel	43 Kütahya	53 Rize	63 Şanlıurfa	73 Şırnak	
04 Ağrı	14 Bolu	24 Erzincan	34 İstanbul	44 Malatya	54 Sakarya	64 Uşak	74 Bartın	
05 Amasya	15 Burdur	25 Erzurum	35 İzmir	45 Manisa	55 Samsun	65 Van	75 Ardahan	
06 Ankara	16 Bursa	26 Eskişehir	36 Kars	46 Kahramanmaraş	56 Siirt	66 Yozgat	76 İğdır	
07 Antalya	17 Çanakkale	27 Gaziantep	37 Kastamonu	47 Mardin	57 Sinop	67 Zonguldak	77 Yalova	
08 Artvin	18 Çankırı	28 Giresun	38 Kayseri	48 Muğla	58 Sivas	68 Aksaray	78 Karabük	
09 Aydın	19 Çorum	29 Gümüşhane	39 Kırklareli	49 Muş	59 Tekirdağ	69 Bayburt	79 Kilis	
10 Balıkesir	20 Denizli	30 Hakkâri	40 Kırşehir	50 Nevşehir	60 Tokat	70 Karaman	80 Osmaniye	

Bu bilgilerden aşağıdakilerin hangisine ulaşamaz?

- A) Ardahan, Eskişehir’den sonra il olmuştur.
 B) Şanlıurfa’ya “Şanlı” unvanı 27 Eylül 1962’den sonra verilmiştir.
 C) Gaziantep “Gazi” unvanını 27 Eylül 1962’deki düzenlemeden önce almıştır.
 D) Bursa, Manisa’dan önce il olmuştur.

11. Bizim zamanımızda şiir, hayatımızın içinde yer alan ve ruhumuzu ince söyleyişleriyle besleyen bir türdü. Şiirin etkisi, on beş yirmi sene öncesine göre çok çok azaldı. İnternet üzerinden de dolaşıma girmesine rağmen şiirin etkisi azalmaya devam etmektedir. Bunun temel sebebi, hayatın bugünkü koşullarının heyecan, zevk, merak unsurlarını anlık duygular hâline getirmesidir. Şairin ilham aldığı bir melek yok artık! Melekler hayatımızdan çekildi! Onları hayatımızdan çekilmeye zorladık. Artık ilhamı, içi boş şeylerden alıyoruz.

Bu metnin yazıldığı türle ilgili aşağıdakilerden hangisi doğrudur?

- A) Bir kişinin başından geçen olaylar aktarılmıştır.
 B) Düşünceler bir olay örgüsü çerçevesinde dile getirilmiştir.
 C) Düşünceler kanıtlanma amacı güdülmeden öznel bir üslupla ifade edilmiştir.
 D) Bir konuyla ilgili tespitler bilimsel gerçekliğe uygun olarak anlatılmıştır.

12. Avustralya'da yaşayan Rebecca isimli bir kadın, dünyada sadece 80 kişide görülen "süper otobiyografik hafıza"ya sahip. Rebecca, bugüne kadar yaşadığı en önemsiz olayları bile gayet net hatırlayabiliyor. Çocukken okuduğu kitapların hemen hepsini cümlesi cümlesine ezbere anlatabiliyor. Çoğu insanın gıpta edebileceği bu yetenek, sonradan olumsuz bir duruma dönüşebiliyor. Yeni şeyler öğrenme konusunda zaman zaman güçlükler çeken Rebecca, hatıralarıyla baş etmekte zorlanıyor. Bu özel durum, yeni öğrenmelere yer açan unutmamanın ne kadar güzel olduğunu gösteriyor.

Bu medya metninin yazılış amacı aşağıdakilerden hangisidir?

- A) Olay yorumlama – Bilgi aktarma
 B) Bilgi aktarma – İkna etme
 C) Kültür aktarma – Olay yorumlama
 D) İkna etme – Kültür aktarma

13. İlçe çapında düzenlenecek müzik yarışması için A ve B okullarından Ebrar, Gülsüm, Kemal ve Murat seçilmiştir. Birlikte müzik grubu kuracak olan bu isimler; davul, gitar, piyano ve yan flüt çalacaktır.

Bu kişilerle ilgili bilinenler şunlardır:

- Her bir kişi sadece bir müzik aleti çalacaktır.
- Gülsüm davul çalacaktır.
- Murat, gitar ve piyanodan birini çalacaktır.
- Kemal'in yan flüt ve piyano çalmayacağı bilinmektedir.
- A okulundan seçilenler davul, yan flüt ve gitardan ikisini çalacaktır.
- Kemal ve Gülsüm farklı okuldan seçilmiştir.

Bu bilgilere göre aşağıdakilerden hangisi kesin olarak söylenir?

- A) Gülsüm ve Ebrar aynı okula gitmektedir.
 B) Kemal gitar çalacaktır ve B okulundadır.
 C) Ebrar A okulundadır ve yan flüt çalacaktır.
 D) Kemal ve Murat aynı okula gitmektedir.

14. Nasıl başladı, ne vakit başladı bilemiyorum ama ilk belirtiler dokuz yaşımda iken ortaya çıktı. Misafirlerle bahçede oturuyorduk. Yaşlı bir adam saati sordu. Aksi gibi, kimsede saat yoktu. Eniştem içeri, saate bakmaya koştu. Ben o sırada: "Üçü yirmi geçiyor." deyivermiştim.

--- Boğazdan geçen vapurlara bakıp zamanı bazen dakikası dakikasına kestirmek mümkündü. Görünürde vapur olmadığı anlaşılınca gözler fal taşı gibi açıldı ve hep bir ağızdan "---" dediler.

"Bilmem." dedim. "Dilimin ucuna geliverdi işte."

Rahmetli halam: "Tesadüf a canım!" dedi.

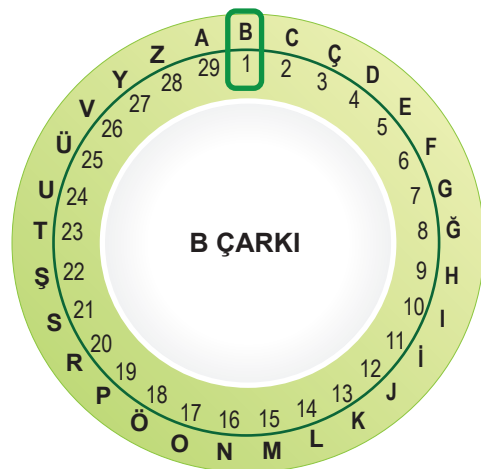
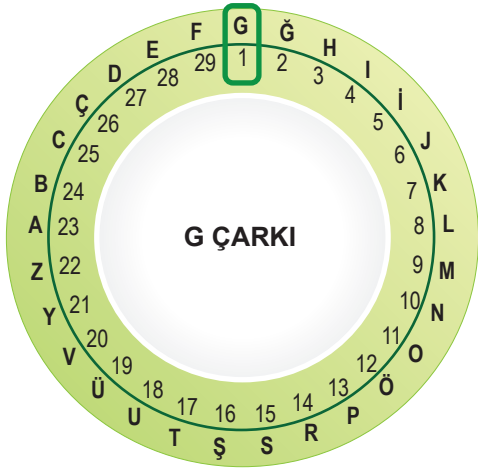
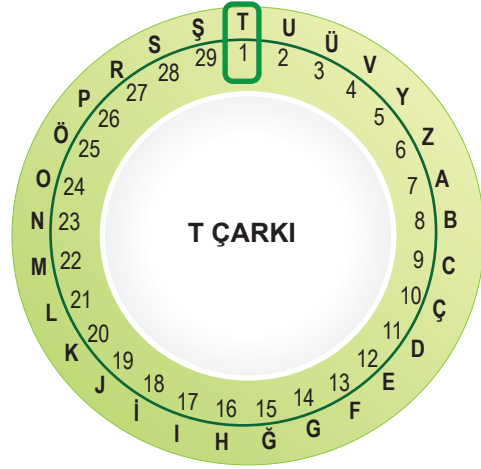
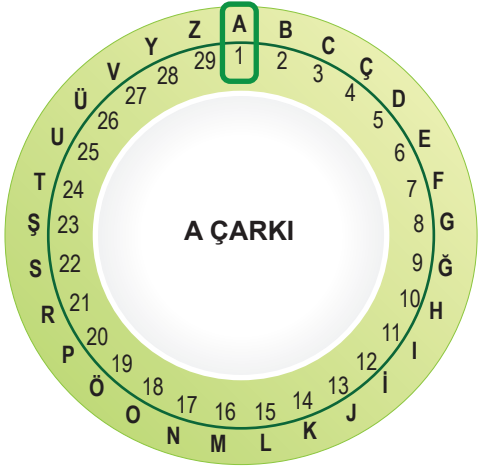
"Attı tuttu işte. Olmaz mı böyle şeyler?"

Öbürküler de: "Evet, tesadüf." dediler. "---" diye de eklediler.

Bu metinde boş bırakılan yerlerden herhangi birine mantık akışına göre aşağıdakilerden hangisi getirilemez?

- A) Ama bu kadar olur yani!
 B) Aslında saati biliyordum.
 C) Saati tutturamama önce kimse şaşırmadı.
 D) Peki ama nasıl bildin?

15. Görsellerde bir şifreleme sistemine ait çarklar verilmiştir.



Üç harflik bu şifreleme sisteminde, yazılacak sözcüklerin harfleri için önce A çarkından harfin numarası bulunur; sonra sözcüğün birinci harfi için T, ikinci harfi için G, üçüncü harfi için B çarkından o numaraya karşılık gelen harf yazılır. Üçten fazla harfli olan sözcüklerde ise döngü aynı şekilde devam ettirilir.

Buna göre "VATAN" sözcüğünün bu şifreleme sistemindeki karşılığı aşağıdakilerden hangisidir?

A) RGUTT

B) RGUGT

C) RTGTU

D) RTGGU

16. Otomobillerde hibrit teknoloji, çevreci ve ekonomik olması nedeniyle son yıllarda tercih edilmeye başlandı. Hibrit araçlarda fosil yakıtla ve elektrikle çalışan iki ayrı motor bulunur. Hibrit otomobil teknolojisi bu iki motoru, uygun durumlar için “değişmeli” veya “beraber” kullanarak aracın yakıt verimliliğini artırırken zararlı gaz salınımını azaltır.

Hibrit Otomobilin Çalışma Sistemi

Kalkış: Sadece elektrikli motor çalışır.

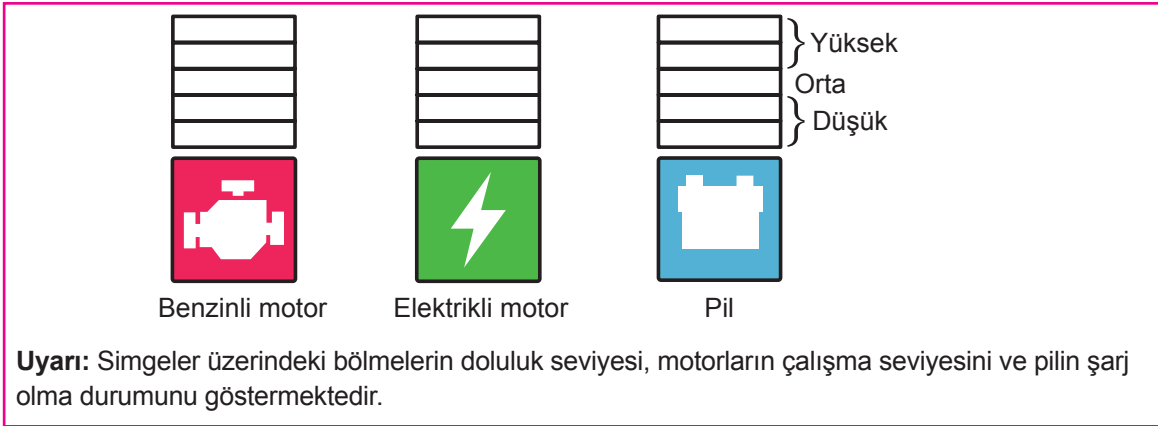
Normal sürüş: Asıl gücü elektrikli motor sağlarken diğer motor gerektiğinde destek olur.

Hızlı sürüş: Benzinli motor asıl gücü sağlarken elektrikli motor destek olur.

Yavaşlama-Frenleme: Benzinli ve elektrikli motor durur.


Pilin Şarj Olma Durumları

- Benzinli motor çalıştığında düşük düzeyde şarj olur. (Hızlı sürüşte şarj olmaz.)
- Frenleme sırasında yüksek düzeyde şarj olur.




Bu bilgilerden yola çıkarak benzinli ve elektrikli motorun çalışma seviyeleri ile pilin şarj olma durumunu göstermek isteyen biri, aşağıdakilerin hangisinde yanlışlık yapmış olur?


A) Kalkış:




B) Normal sürüş:



C) Hızlı sürüş:



D) Yavaşlama-Frenleme:



17. Shenzen şehri 1980'lerde uygulanmaya başlanan SEZ (Özel Ekonomik Bölge) projesiyle kurulmuş ve bu projeden sonra gelişmiş bir şehir. Shenzen sokaklarını adımlar ve teknolojik dünyanın enerjisini hissederken hep aynı tipler çıkıyor önünüze: düşlerinin peşinden koşan girişimciler, ilham peşindeki sanatçılar, kişilik arayışına çıkmış kayıp ruhlar...

Bu metindeki noktalama işaretlerinin işlevi aşağıdakilerin hangisinde yanlış verilmiştir?

- A) İki nokta, kendisiyle ilgili örnek verilecek cümlelerin sonuna konmuştur.
 B) Virgül, birbiri ardınca sıralanan eş görevli kelime ve kelime gruplarının arasında kullanılmıştır.
 C) Yay ayraç, cümledeki anlamı tamamlayan ve cümlelerin dışında kalan ek bilgileri belirtmek amacıyla konmuştur.
 D) Üç nokta, herhangi bir sebepten dolayı açık yazılmak istenmeyen kelime ve bölümlerin yerine konmuştur.

18. Özne; yüklem bildirdiği işi yapan, yüklem bildirdiği durumu üzerine alan ögedir. Nesne ise cümlede öznenin yaptığı eylemden etkilenen ögedir. "Selim çantasını masaya bıraktı." cümlesinde bırakma işini yapan "Selim"dir ve cümlelerin öznesidir. Selim'in bırakma işinden etkilenen ise "çanta"dır ve cümlelerin nesnesidir.

Bu açıklamaya göre aşağıdakilerin hangisinde altı çizili öge cümlelerin öznesidir?

- A) Pencerenin önündeki ağacın çiçekli dalları rengârenk bir kelebeği ağırlıyordu.
 B) Sağlı sollu ırmaklar kasabadaki doğuya meyilli sokakları canlandırmıştı.
 C) İlbahar rüzgârıyla neşelenen martılar sessizliğe bürünen sokağı çınlatıyordu.
 D) Derme çatma kır bahçesini genç bir dut ağacının gölgesi koruyordu.

19.

Açıklama

Cümlede durum veya zaman bildiren fiilimsiler zarf-fiildir.

Örnekler:

Murat Nehri donunca gençler, üzerinde top zaman bildiren zarf-fiil oynuyormuş.

Gözlerini kitaptan ayırmadan sorduğum durum bildiren zarf-fiil soruya cevap verdi.

(I) Yaz aylarında tamamen kuruyan Kara Muğla Deresi'nin yatağını takip ederek Saburhane Meydanı'na ilerliyorum. (II) Saburhane'nin sürprizli sokaklarına doğru yol alırken yüzleri ısıtan neşeli ilkbahar güneşinin ağaçlara can verdiğini hissetmek zor olmuyor. (III) Kim bilir üst üste kaç kat kireç atılmış bembeyaz boyalı evleri keşfetmek için sokak aralarına dalıyorum. (IV) Evlerin ahşap bölümleri, Saburhaneli kadınların titizliğiyle siline siline özgün ve büyümlü bir sanat eserine dönüşmüş sanki.

Bu parçada numaralanmış cümlelerin hangisinde zarf-fiil yoktur?

- A) I B) II C) III D) IV

20.

(I) Çayın hikâyesi yaklaşık beşbin yıl evvel Çin'de başladı. (II) Efsaneye göre İmparator Shen Nung bir öğle istirahatindeyken hizmetkârları, içmesi için ona bir kapta su kaynatıyorlardı. (III) Bu sırada tatlı bir rüzgâr, sıcak suya birkaç çay yaprağı düşürdü. (IV) İmparator, bu suyu içince öyle beğendi ki çay bir içecek olarak keşfedilmiş oldu.

Bu parçadaki numaralanmış cümlelerin hangisinde yazım yanlışı vardır?

- A) I B) II C) III D) IV

SINAVLA ÖĞRENCİ ALACAK ORTAÖĞRETİM KURUMLARINA İLİŞKİN MERKEZİ SINAV

T.C. İNKILAP TARİHİ VE ATATÜRKÇÜLÜK

1. Bu testte 10 soru vardır.
2. Cevaplarınızı, cevap kâğıdına işaretleyiniz.

1. “Tanzimat Fermanı sadece iç dinamiklerden kaynaklanmış olamaz. Osmanlı Devleti’nin zayıflamasıyla birlikte, ülkedeki gayrimüslimler üzerindeki hâkimiyetini artırmak isteyen Batılı ülkelerin de tesiri son derece önemlidir.” **diyen bir tarihçi Tanzimat Fermanı’nın hangi özelliğine vurgu yapmaktadır?**

- A) Can ve mal güvenliğini devlet güvencesine alması
- B) Azınlıkları kanun önünde eşit kabul eden bir belge oluşu
- C) Ferman’ın ilanında yabancı devletlerin etkisinin bulunması
- D) Osmanlının dağılmasının önüne geçmek için alınan bir tedbir olması

2. Osmanlı Devleti’nin çöküş sürecinde devletin varlığını sürdürmek ve dağılmasını önlemek için bazı fikir akımları geliştirilmiştir. Bu fikir akımlarından biri de Osmanlıcılıktır. Osmanlıcılık akımı, Osmanlı Devleti sınırları içinde yaşayanları hangi din ve soydan olursa olsun kaynaştırarak bir “Osmanlı Milleti” oluşturmayı amaçlamıştır. Ancak Osmanlıcılığın gerçekçi bir çözüm olmadığı kısa sürede görülmüştür.

Buna göre aşağıdaki gelişmelerden hangisi Osmanlıcılık akımının geçerliliğini yitirmiş olduğunun bir göstergesidir?

- A) Osmanlı Devleti’nin Birinci Dünya Savaşı’nda İttifak Devletleri yanında savaşa girmesi
- B) Müslüman olmayanlara bütün devlet memurluklarına atanabilme hakkının verilmesi
- C) Mebusan Meclisinde tüm Osmanlı unsurlarına temsil hakkının verilmiş olması
- D) Balkan milletlerinin isyan edip Osmanlı Devleti’nden ayrılması